

## HUDEBNÍ NAUKA 9. TÝDEN

Milí žáci,


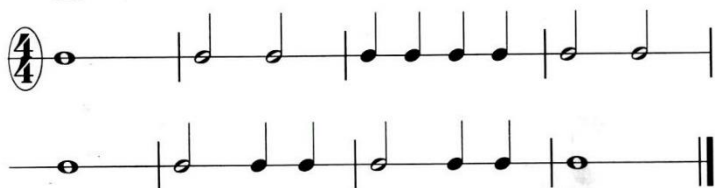
chci poděkovat všem, kdo vypracoval a odeslal úkoly. V novém týdnu Kryšpín připravil pro vás zajímavé zadání. Budeme rozpočítávat noty a pomlky ve čtyřdobém taktu. S tímto taktem jsou spojené naše oblíbené písničky jako Kočka leze dírou, Ovčáci, čtveráci, Běží liška z Tábora, Kočka leze dolu, Šel tudy.

V prvním zadání z učebnice na str.21 doplň taktové čáry mezi notami tak, aby v každém byly 4 doby. Druhé je na první pohled trochu náročné, ale když si pozorně přečtete zadání od Kryšpína, hravě ho zvládnete. Ode mě máte nápovědu. V úloze Počítání ve 4/4 taktu poslední skupinka ze tří not osminových je na jednu dobu. Této skupince říkáme triola. Vybarvíte jen půlku čtverce tam, kde naproti máte notu nebo pomlku na půl doby. Poslední úkol je lehký. Musíte doplnit noty, pomlky nebo taktové čáry v taktech na 4 doby.


### Takt celý = 4/4 takt



Vyťukejte nebo vytleskejte.



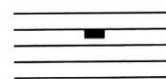
Doplň taktové čáry a společně vyťukejte.




Tahle ta nota celá  
co asi pořád dělá?  
Pohybu ani trošička,  
už jí chybí i nožička.




Dobře si prohlédni  
**pomlku celou.**

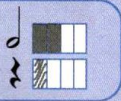


























A teď ji zkus napsat  
sám.





# Počítání ve 4/4 taktu

 Vybarvi, jak velkou část ve 4/4 taktu zaberou tyto noty. Pomlky nevybarvuj plně, jen je vyčárkuj.

příklad: 

 = 	 = 	 = 	 = 
 = 	 = 	 = 	 = 
 = 	 = 	 = 	 = 

 Které z těchto not přiřadíš k jedné době, které ke dvěma, třem nebo ke čtyřem dobám ve 4/4 taktu? Zapiš je do správného pole. Pak zakroužkuj tři noty nebo pomlky, které ti zbydou.



1 doba

2 doby

3 doby

4 doby

