

Piano

Hudební nauka 5.ročník

*Tohle je molová stupnice jaká?
pod ní je T5, T6, T4/6.*




5 kvintakord

sextakord

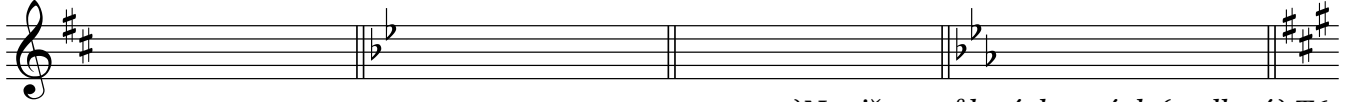


1.) Napište v půlových notách (mollový) T5
každé stupnice (harmonicky - tři tóny nad sebou).

9 kvartsextakord

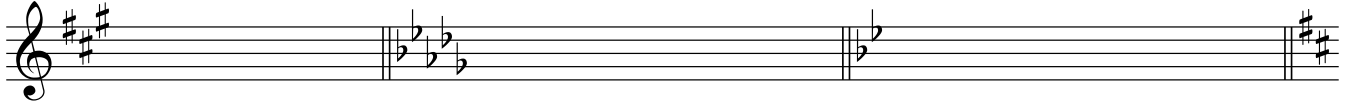


13



2.) Napište v půlových notách (mollový) T6
každé stupnice.

17



3.) Napište v půlových notách (mollový) T4/6
každé stupnice.

20

