




# Hudební nauka 5.ročník

Stupnice C dur




1. Napište k této stupnici ,stupnici pararelní a stejnojmennou (obě budou mollové)




13

2. Od tónu c1 vyznačte čisté intervaly (náповěda 1 , 4 , 5 , 8)



17

3. Od tónu c1 vyznačte intervaly velké (náповěda 2 , 3 , 6 , 7)



4. Jeden z těchto kvintakordů je mollový. Zakroužkujte ho! (náповěda: pokud vytvoříte interval mezi prvním tónem a druhým tónem, zjistíte, že jedna 3 je malá, ostatní velké)

