









Hudební nauka 1. ročník.

Milí žáci, máte na tento týden několik lehkých úkolů z hudební nauky. Jsou skutečně snadné a k rozluštění potřebujete správný klíč, který budete mít až si správně vybarvíte kroužky pod jmény not. Zelenou barvou správný název a to, co je nesprávně, vybarvíte červenou. Správně pojmenované noty od c1 až po c2 budou tímto klíčem, a tak si můžete pracovat dál se dvěma pracovními listy.

			
e ¹ c ¹ g ¹	f ¹ g ¹ d ¹	e ¹ c ¹ a ¹	h ¹ f ¹ e ¹
○ ○ ○	○ ○ ○	○ ○ ○	○ ○ ○
			
g ¹ e ¹ h ¹	h ¹ c ² a ¹	g ² h ¹ c ²	c ² c ¹ a ¹
○ ○ ○	○ ○ ○	○ ○ ○	○ ○ ○

A Jméno: _____

1. Tato nota se jmenuje

e¹
d¹
h¹



5. Tato nota se jmenuje

c¹
c²
a¹



2. Tato nota se jmenuje

g¹
f¹
a¹



6. Tato nota se jmenuje

e¹
f¹
g¹



3. Tato nota se jmenuje

e¹
g¹
c¹



7. Tato nota se jmenuje

f¹
a¹
h¹



4. Tato nota se jmenuje

a¹
h¹
d¹



8. Tato nota se jmenuje

g¹
f¹
d¹



B Jméno: _____

1. Tato nota se jmenuje

g¹
f¹
e¹



5. Tato nota se jmenuje

f¹
h¹
g¹



2. Tato nota se jmenuje

d¹
e¹
c¹



6. Tato nota se jmenuje

f¹
e¹
g¹



3. Tato nota se jmenuje

h¹
a¹
f¹



7. Tato nota se jmenuje

d¹
g¹
a¹



4. Tato nota se jmenuje

g¹
a¹
f¹



8. Tato nota se jmenuje

c¹
f¹
c²



Pracovní list č.1

Jméno: _____

1. Noty

Doplň názvy těchto not.



c¹ _____ _____ _____ _____






_____ _____ _____ _____ _____

Spoj čarou noty a jejich názvy.



c¹ d¹ e¹ f¹ g¹

2. Noty

-  tato nota je _____ a počítá se na jednu dobu.
-  tato nota je _____ a počítá se na dvě doby.
-  tato nota je _____ a počítá se na čtyři doby.

Zakroužkuj noty, které jsou správně.



PŮLOVÁ CELÁ ČTVRŤOVÁ CELÁ ČTVRŤOVÁ



CELÁ ČTVRŤOVÁ CELÁ PŮLOVÁ CELÁ

3. Noty

Doplň názvy těchto not. Zakroužkuj notu c¹.



_____ _____ _____ _____ _____