



Pracovní list2. Ročník

Napiš stupnici Es dur s akordem:



P..... je nejmenší vzdálenost mezi dvěma tóny.

Označ svorkou dvojice tónů, které tvoří půltóny.




Co znamenají tyto hudební pojmy?

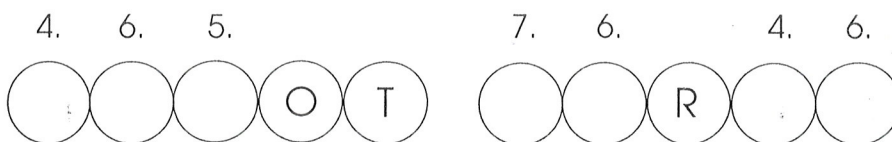
adagio moderato

allegro ritardando.....

Doplň noty v basovém klíči:



Dokážeš rozluštit dva hudební nástroje? Číslo nad kolečkem udává stupeň (tón) ve stupnici C dur.



Dechový dřevěný nástroj

Drnkací nástroj