



Pracovní list2. Ročník

Učebnice str. 53 č. 93 (napiš, v jaké je píseň tónině, jak se jmenuje 3. nota v 1. taktu, jedna nota , která je v předznamení, chybí, najdeš ji ?)


Noty v basovém klíči:



Intervaly:



Rytmus: vyškrtej nadbytečné noty nebo pomlky



Muzikantské počty:

sečti nebo odečti předznamení stupnic:

D+G+A = E-D+G= F+B+Es=