

Martin Vozer - 50 hudebních kvízů



- zábavná metoda výuky formou kvízů
- hudební pojmy, nástroje, skladatelé
- jazz a populární hudba, hudební kuriozity
- správné odpovědi všech kvízů

E-mail: Martin8888@seznam.cz

tel: 739 921 082

Kompletní nabídka výukových materiálů na internetových stránkách:

www.hudebnivychova.cz

Hudební pojmy – kvíz č. 1

1. Notová osnova má

- a) 6 linek a 5 mezer
- b) 5 linek a 4 mezery
- c) 5 linek a 5 mezer

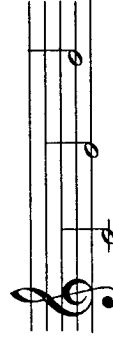
2. Na začátek notové osnovy zapisujeme

- a) flétnový klíč
- b) klavírní klíč
- c) houslový klíč

3. Nota celá • trvá

- a) na čtyři doby
- b) na jednu dobu
- c) na dvě doby


4. Které noty jsou zapsané v notové osnově?



- a) c¹, d¹, e¹
- b) c¹, e¹, g¹
- c) d¹, g¹, e¹

5. Co znamená označení $\frac{2}{4}$?


- a) takt dvoučtvrtkový
- b) takt čtyřčtvrtkový
- c) takt čtyřpůlový

6. Tato nota  je

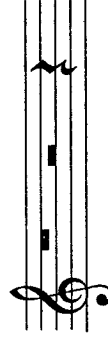
- a) celá, na čtyři doby
- b) půlová, na dvě doby
- c) čtvrtková, na jednu dobu

7. Na spodní lince leží nota


- a) c¹
- b) g¹
- c) e¹



8. V jakém pořadí jsou noty zapsané do notové osnovy?



- a) čtvrtková, půlová, celá
- b) celá, půlová, čtvrtková
- c) půlová, celá, čtvrtková

9. Tato nota  je

- a) celá, na čtyři doby
- b) půlová, na dvě doby
- c) čtvrtková, na jednu dobu

10. Na prostřední lince leží nota



- a) a¹
- b) e¹
- c) h¹

Hudební pojmy – kvíz č. 1

1. Notová osnova má

- a) 6 linek a 5 mezer
- b) 5 linek a 4 mezery
- c) 5 linek a 5 mezer

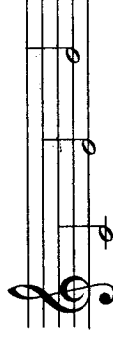
2. Na začátek notové osnovy zapisujeme

- a) flétnový klíč
- b) klavírní klíč
- c) houslový klíč

3. Nota celá • trvá

- a) na čtyři doby
- b) na jednu dobu
- c) na dvě doby


4. Které noty jsou zapsané v notové osnově?



- a) c¹, d¹, e¹
- b) c¹, e¹, g¹
- c) d¹, g¹, e¹

5. Co znamená označení $\frac{2}{4}$?


- a) takt dvoučtvrtkový
- b) takt čtyřčtvrtkový
- c) takt čtyřpůlový

6. Tato nota  je

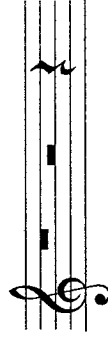
- a) celá, na čtyři doby
- b) půlová, na dvě doby
- c) čtvrtková, na jednu dobu

7. Na spodní lince leží nota


- a) c¹
- b) g¹
- c) e¹



8. V jakém pořadí jsou noty zapsané do notové osnovy?




- a) čtvrtková, půlová, celá
- b) celá, půlová, čtvrtková
- c) půlová, celá, čtvrtková

9. Tato nota  je

- a) celá, na čtyři doby
- b) půlová, na dvě doby
- c) čtvrtková, na jednu dobu

10. Na prostřední lince leží nota



- a) a¹
- b) e¹
- c) h¹

Hudební pojmy – kvíz č. 2

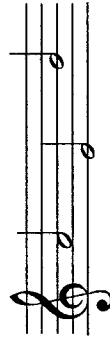
1. Místo jedné půlové noty lze zapsat

- a) čtyři čtvřřové noty
- b) dvě čtvřřové noty
- c) dvě celé noty



- a) celá
- b) půlová
- c) čtvřřová

2. Které noty jsou zapsané v notové osnově?



- a) a¹, d¹, h¹
- b) g¹, e¹, h¹
- c) a¹, e¹, h¹

7. Která nota leží v notové osnově na druhé lince odspoda?

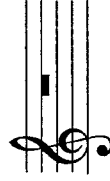


- a) c¹
- b) g¹
- c) e¹

8. Kterou notu nelze zapsat do dvoučtvřřového taktu?

- a) čtvřřovou
- b) půlovou
- c) celou

3. Která pomilka visí na čtvřřé lince?



- a) celá
- b) půlová
- c) čtvřřová

4. Do jednoho čtyřčtvřřového taktu lze zapsat

- a) dvě celé noty
- b) čtyři půlové noty
- c) čtyři čtvřřové noty

5. Nota f¹ leží v notové osnově

- a) na spodní lince
- b) ve spodní mezeři
- c) pod notovou osnovou

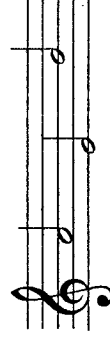
1. Místo jedné půlové noty lze zapsat

- a) čtyři čtvřřové noty
- b) dvě čtvřřové noty
- c) dvě celé noty




- a) celá
- b) půlová
- c) čtvřřová

2. Které noty jsou zapsané v notové osnově?



- a) a¹, d¹, h¹
- b) g¹, e¹, h¹
- c) a¹, e¹, h¹

7. Která nota leží v notové osnově na druhé lince odspoda?




- a) c¹
- b) g¹
- c) e¹

8. Kterou notu nelze zapsat do dvoučtvřřového taktu?

- a) čtvřřovou
- b) půlovou
- c) celou

3. Která pomilka visí na čtvřřé lince?



- a) celá
- b) půlová
- c) čtvřřová

4. Do jednoho čtyřčtvřřového taktu lze zapsat

- a) dvě celé noty
- b) čtyři půlové noty
- c) čtyři čtvřřové noty

5. Nota f¹ leží v notové osnově

- a) na spodní lince
- b) ve spodní mezeři
- c) pod notovou osnovou

Hudební pojmy – kvíz č. 2

6. Která pomilka leží na prostřední lince?

- a) celá
- b) půlová
- c) čtvřřová

9. Která nota nemá nožičku?



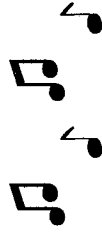
- a) celá
- b) půlová
- c) čtvřřová

10. Místo jedné celé noty lze zapsat

- a) jednu půlovou
- b) dvě půlové
- c) čtyři půlové

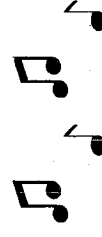
Hudební pojmy – kvíz č. 3

1. Co znamená zkratka ***f*** ?
 - a) označení dynamiky – slabě
 - b) označení dynamiky – silně
 - c) označení tempa – rychle
2. Co znamená **\sharp** (posuvka zapsaná před notou)?
 - a) zvyšuje notu o půltón
 - b) snižuje notu o půltón
 - c) ruší platnost křížků a béček
3. Allegro znamená
 - a) pomalu
 - b) slabě
 - c) rychle
4. Legato znamená
 - a) mírně rychle
 - b) vázaně
 - c) pomalu
5. Co znamená **\downarrow** (posuvka zapsaná před notou)?
 - a) zvyšuje notu o půltón
 - b) ruší platnost křížků a béček
 - c) snižuje notu o půltón
6. Co znamená zkratka ***mf*** ?
 - a) označení dynamiky – středně silně
 - b) označení dynamiky – silně
 - c) rychle
7. Označení ***C*** za houslovým klíčem znamená
 - a) takt celý (čtyřčtvrtový)
 - b) skladbu hrajeme dvakrát
 - c) takt třičtvrtový
8. Co znamená **\downarrow** (posuvka zapsaná před notou)?
 - a) zvyšuje notu o půltón
 - b) ruší platnost křížků a béček
 - c) snižuje notu o půltón
9. Co je repetice?
 - a) opakování (opakujeme část skladby)
 - b) hrajeme vázaně
 - c) zpomalíme na konci skladby
10. Co znamená zkratka ***p*** ?
 - a) označení dynamiky – rychle
 - b) označení tempa – pomalu
 - c) označení dynamiky – slabě



Hudební pojmy – kvíz č. 3

1. Co znamená zkratka ***f*** ?
 - a) označení dynamiky – slabě
 - b) označení dynamiky – silně
 - c) označení tempa – rychle
2. Co znamená **\sharp** (posuvka zapsaná před notou)?
 - a) zvyšuje notu o půltón
 - b) snižuje notu o půltón
 - c) ruší platnost křížků a béček
3. Allegro znamená
 - a) pomalu
 - b) slabě
 - c) rychle
4. Legato znamená
 - a) mírně rychle
 - b) vázaně
 - c) pomalu
5. Co znamená **\downarrow** (posuvka zapsaná před notou)?
 - a) zvyšuje notu o půltón
 - b) ruší platnost křížků a béček
 - c) snižuje notu o půltón
6. Co znamená zkratka ***mf*** ?
 - a) označení dynamiky – středně silně
 - b) označení dynamiky – silně
 - c) rychle
7. Označení ***C*** za houslovým klíčem znamená
 - a) takt celý (čtyřčtvrtový)
 - b) skladbu hrajeme dvakrát
 - c) takt třičtvrtový
8. Co znamená **\downarrow** (posuvka zapsaná před notou)?
 - a) zvyšuje notu o půltón
 - b) ruší platnost křížků a béček
 - c) snižuje notu o půltón
9. Co je repetice?
 - a) opakování (opakujeme část skladby)
 - b) hrajeme vázaně
 - c) zpomalíme na konci skladby
10. Co znamená zkratka ***p*** ?
 - a) označení dynamiky – rychle
 - b) označení tempa – pomalu
 - c) označení dynamiky – slabě



Hudební pojmy – kvíz č. 4

1. Crescendo znamená

- a) zeslabovat
- b) zesilovat
- c) zrychlovat

2. Co je půltón?

- a) nejmenší vzdálenost mezi dvěma sousedními tóny
- b) vzdálenost mezi dvěma tóny stejné výšky
- c) tón, který zní slabě

3. Staccato znamená

- a) dlouze
- b) jemně
- c) krátce

4. Houslový klíč se nazývá

- a) podle noty, která leží v notové osnově na druhé lince odspoda. Jak se mu také říká?

- a) A klíč
- b) E klíč
- c) G klíč



5. Celý tón je složen

- a) ze dvou půltónů
- b) ze tří tónů různé výšky
- c) ze dvou tónů stejné výšky

6. První stupeň stupnice se nazývá

- a) takt
- b) prima
- c) tónika

7. Koruna tón

- a) zkracuje
- b) prodlužuje
- c) zesiluje

8. Interval je

- a) výšková vzdálenost mezi dvěma tóny
- b) krátká přehra
- c) neúplný takt

9. Moderato znamená

- a) rychle
- b) mírně
- c) vázaně

10. Pro zápis hlubokých tónů se užívá

- a) houslový klíč
- b) flétnový klíč
- c) basový klíč



Hudební pojmy – kvíz č. 4

1. Crescendo znamená

- a) zeslabovat
- b) zesilovat
- c) zrychlovat

2. Co je půltón?

- a) nejmenší vzdálenost mezi dvěma sousedními tóny
- b) vzdálenost mezi dvěma tóny stejné výšky
- c) tón, který zní slabě

3. Staccato znamená

- a) dlouze
- b) jemně
- c) krátce

4. Houslový klíč se nazývá

- a) podle noty, která leží v notové osnově na druhé lince odspoda. Jak se mu také říká?

- a) A klíč
- b) E klíč
- c) G klíč



5. Celý tón je složen

- a) ze dvou půltónů
- b) ze tří tónů různé výšky
- c) ze dvou tónů stejné výšky

6. První stupeň stupnice se nazývá

- a) takt
- b) prima
- c) tónika

7. Koruna tón

- a) zkracuje
- b) prodlužuje
- c) zesiluje

8. Interval je

- a) výšková vzdálenost mezi dvěma tóny
- b) krátká přehra
- c) neúplný takt

9. Moderato znamená

- a) rychle
- b) mírně
- c) vázaně


10. Pro zápis hlubokých tónů se užívá

- a) houslový klíč
- b) flétnový klíč
- c) basový klíč

Noty a pomlky – kvíz č. 5


1. Tato nota se jmenuje

- a) d¹
- b) f¹
- c) h¹



6. Tato nota se jmenuje

- a) h¹
- b) e¹
- c) a¹




2. Tato nota se jmenuje

- a) c¹
- b) a¹
- c) f¹




7. Tato nota se jmenuje

- a) g¹
- b) e¹
- c) c¹



3. Tato nota se jmenuje

- a) f¹
- b) e¹
- c) g¹




8. Tato pomlka je

- a) čtvrtová
- b) půlová
- c) celá




4. Tato nota se jmenuje

- a) a¹
- b) d¹
- c) h¹




9. Tato pomlka je

- a) čtvrtová
- b) půlová
- c) celá




5. Tato nota se jmenuje

- a) g¹
- b) e¹
- c) d¹



10. Tato pomlka je

- a) čtvrtová
- b) půlová
- c) celá



Noty a pomlky – kvíz č. 5


1. Tato nota se jmenuje

- a) d¹
- b) f¹
- c) h¹



6. Tato nota se jmenuje

- a) h¹
- b) e¹
- c) a¹




2. Tato nota se jmenuje

- a) c¹
- b) a¹
- c) f¹




7. Tato nota se jmenuje

- a) g¹
- b) e¹
- c) c¹




3. Tato nota se jmenuje

- a) f¹
- b) e¹
- c) g¹



8. Tato pomlka je

- a) čtvrtová
- b) půlová
- c) celá




4. Tato nota se jmenuje

- a) a¹
- b) d¹
- c) h¹



9. Tato pomlka je

- a) čtvrtová
- b) půlová
- c) celá



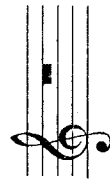
5. Tato nota se jmenuje

- a) g¹
- b) e¹
- c) d¹



10. Tato pomlka je

- a) čtvrtová
- b) půlová
- c) celá



Noty s křížky a béčky – kvíz č. 6

1. Tato nota se jmenuje



- a) fis¹
- b) dis¹
- c) cis¹

6. Tato nota se jmenuje



- a) fes¹
- b) es¹
- c) ges¹

2. Tato nota se jmenuje



- a) dis¹
- b) gis¹
- c) dis¹

7. Tato nota se jmenuje



- a) ces¹
- b) as¹
- c) des¹

3. Tato nota se jmenuje



- a) dis¹
- b) cis¹
- c) eis¹

8. Tato nota se jmenuje



- a) fis¹
- b) ges¹
- c) es¹

4. Tato nota se jmenuje



- a) gis¹
- b) dis¹
- c) fis¹

9. Tato nota se jmenuje



- a) as¹
- b) des¹
- c) ges¹

5. Tato nota se jmenuje



- a) fis¹
- b) dis¹
- c) ais¹

10. Tato nota se jmenuje



- a) fes¹
- b) ces¹
- c) des¹

Noty s křížky a béčky – kvíz č. 6

1. Tato nota se jmenuje



- a) fis¹
- b) dis¹
- c) cis¹

6. Tato nota se jmenuje



- a) fes¹
- b) es¹
- c) ges¹

2. Tato nota se jmenuje



- a) ais¹
- b) gis¹
- c) dis¹

7. Tato nota se jmenuje



- a) ces¹
- b) as¹
- c) des¹

3. Tato nota se jmenuje



- a) dis¹
- b) cis¹
- c) eis¹

8. Tato nota se jmenuje



- a) fis¹
- b) ges¹
- c) es¹

4. Tato nota se jmenuje



- a) gis¹
- b) dis¹
- c) fis¹

9. Tato nota se jmenuje



- a) as¹
- b) des¹
- c) ges¹

5. Tato nota se jmenuje



- a) fis¹
- b) dis¹
- c) ais¹

10. Tato nota se jmenuje



- a) fes¹
- b) ces¹
- c) des¹


Noty c² – h² – kvíz č. 7

1. Noty se jmenují



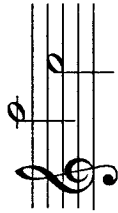
- a) g², a²
- b) d², f²
- c) d², g²

6. Noty se jmenují




- a) c², f²
- b) c², e²
- c) e¹, f²

2. Noty se jmenují



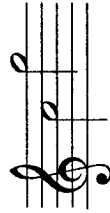
- a) a², c²
- b) g², d²
- c) e², h²

7. Noty se jmenují




- a) c², g²
- b) e², h²
- c) e², g²

3. Noty se jmenují




- a) e², g²
- b) d², h²
- c) c², g²

8. Noty se jmenují



- a) d², h²
- b) d², a²
- c) f², a²

4. Noty se jmenují



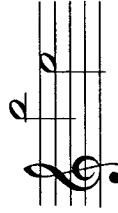
- a) f², e²
- b) a², c²
- c) g², d²

9. Noty se jmenují



- a) h², f²
- b) h², g²
- c) a², f²

5. Noty se jmenují



- a) a², e²
- b) h², e²
- c) a², f²

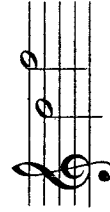
10. Noty se jmenují



- a) c², a²
- b) c², g²
- c) d², g²

Noty c² – h² – kvíz č. 7

1. Noty se jmenují



- a) g², f²
- b) d², f²
- c) d², g²

6. Noty se jmenují




- a) c², f²
- b) c², e²
- c) e¹, f²

2. Noty se jmenují



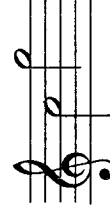
- a) a², c²
- b) g², d²
- c) e², h²

7. Noty se jmenují



- a) c², g²
- b) e², h²
- c) e², g²

3. Noty se jmenují



- a) e², g²
- b) d², h²
- c) c², g²

8. Noty se jmenují



- a) d², h²
- b) d², a²
- c) f², a²

4. Noty se jmenují



- a) f², e²
- b) a², c²
- c) g², d²

9. Noty se jmenují



- a) h², f²
- b) h², g²
- c) a², f²

5. Noty se jmenují



- a) a², e²
- b) h², e²
- c) a², f²

10. Noty se jmenují



- a) c², a²
- b) c², g²
- c) d², g²

Noty s křížky a béčky – kvíz č. 8

1. Tato nota se jmenuje



- a) fis¹ čtvrtová
- b) f¹ čtvrtová
- c) fis² půlová

6. Tato nota se jmenuje



- a) gis² celá
- b) gis² půlová
- c) ges¹ celá

2. Tato nota se jmenuje



- a) h¹ půlová
- b) his¹ půlová
- c) h¹ celá

7. Tato nota se jmenuje



- a) fis¹ celá
- b) fis² půlová
- c) fis¹ půlová

3. Tato nota se jmenuje



- a) cis¹ půlová
- b) cis¹ čtvrtová
- c) cis² čtvrtová

8. Tato nota se jmenuje



- a) es¹ celá
- b) es² celá
- c) eis² půlová

4. Tato nota se jmenuje



- a) e¹ půlová
- b) e² půlová
- c) e² celá

9. Tato nota se jmenuje



- a) as¹ čtvrtová
- b) ais¹ čtvrtová
- c) es¹ půlová

5. Tato nota se jmenuje



- a) as¹ půlová
- b) ais¹ celá
- c) as¹ celá

10. Tato nota se jmenuje



- a) fes¹ půlová
- b) ges¹ půlová
- c) ges² půlová

Noty s křížky a béčky – kvíz č. 8

1. Tato nota se jmenuje



- a) fis¹ čtvrtová
- b) f¹ čtvrtová
- c) fis² půlová

6. Tato nota se jmenuje



- a) gis² celá
- b) gis² půlová
- c) ges¹ celá

2. Tato nota se jmenuje



- a) h¹ půlová
- b) his¹ půlová
- c) h¹ celá

7. Tato nota se jmenuje



- a) fis¹ celá
- b) fis² půlová
- c) fis¹ půlová

3. Tato nota se jmenuje



- a) cis¹ půlová
- b) cis¹ čtvrtová
- c) cis² čtvrtová

8. Tato nota se jmenuje



- a) es¹ celá
- b) es² celá
- c) eis² půlová

4. Tato nota se jmenuje



- a) e¹ půlová
- b) e² půlová
- c) e² celá

9. Tato nota se jmenuje



- a) as¹ čtvrtová
- b) ais¹ čtvrtová
- c) es¹ půlová

5. Tato nota se jmenuje



- a) as¹ půlová
- b) ais¹ celá
- c) as¹ celá

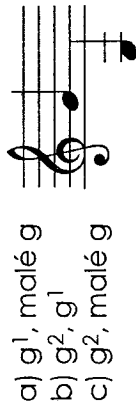
10. Tato nota se jmenuje



- a) fes¹ půlová
- b) ges¹ půlová
- c) ges² půlová

Noty malé g – h² – kvíz č. 9

1. Noty se jmenují



- a) g¹, malé g
- b) g², g¹
- c) g², malé g

6. Noty se jmenují



- a) c², malé c
- b) c³, c¹
- c) c², c¹

2. Noty se jmenují



- a) e¹, malé e
- b) e¹, e³
- c) e¹, e²

7. Noty se jmenují



- a) a¹, malé a
- b) a², malé a
- c) a¹, a²

3. Noty se jmenují



- a) h¹, h²
- b) h¹, malé h
- c) h², malé h

8. Noty se jmenují



- a) f³, f¹
- b) f², f¹
- c) f², malé f

4. Noty se jmenují



- a) a¹, malé a
- b) a¹, a³
- c) a¹, a²

9. Noty se jmenují



- a) h², h¹
- b) h¹, malé a
- c) h³, h¹

5. Noty se jmenují



- a) d¹, d²
- b) d², d³
- c) d¹, malé d

10. Noty se jmenují



- a) g³, g¹
- b) g¹, malé g
- c) g², g¹

Noty malé g – h² – kvíz č. 9

1. Noty se jmenují



- a) g¹, malé g
- b) g², g¹
- c) g², malé g

6. Noty se jmenují



- a) c², malé c
- b) c³, c¹
- c) c², c¹

2. Noty se jmenují



- a) e¹, malé e
- b) e¹, e³
- c) e¹, e²

7. Noty se jmenují



- a) a¹, malé a
- b) a², malé a
- c) a¹, a²

3. Noty se jmenují



- a) h¹, h²
- b) h¹, malé h
- c) h², malé h

8. Noty se jmenují



- a) f³, f¹
- b) f², f¹
- c) f², malé f

4. Noty se jmenují



- a) a¹, malé a
- b) a¹, a³
- c) a¹, a²

9. Noty se jmenují



- a) h², h¹
- b) h¹, malé a
- c) h³, h¹

5. Noty se jmenují



- a) d¹, d²
- b) d², d³
- c) d¹, malé d

10. Noty se jmenují



- a) g³, g¹
- b) g¹, malé g
- c) g², g¹